



**Pruebas de Acceso a las
Universidades de
CASTILLA Y LEÓN
Mayores de 25 años**

GEOGRAFÍA
Propuesta 1/2007

**Texto para los
Alumnos**
Nº páginas
2

SE PRESENTAN DOS PROPUESTAS DE PRUEBA CON IDÉNTICA ESTRUCTURA (Opción A y Opción B).
EL ALUMNO DEBERÁ ESCOGER UNA DE ELLAS Y RESPONDER SÓLO A LA ELEGIDA.

CRITERIOS DE CORRECCIÓN DE LA PRUEBA PARA AMBAS OPCIONES

- I.- Tema:** Se valorará, sobre todo, la coherencia en la estructura y el que los contenidos no omitan aspectos fundamentales de la cuestión.
II.- Práctica: Lo correcto es leer e interpretar el material aportado y superar la mera descripción. Evitar desarrollar un “tema paralelo”.
III.- Conceptos: Se valorará, ante todo, la exactitud, la claridad, la concisión u el correcto uso de la terminología.
IV.- Localizaciones: Se exige que sean claras y precisas. No debe existir duda acerca de dónde se quieren situar las localizaciones propuestas.

OPCIÓN A

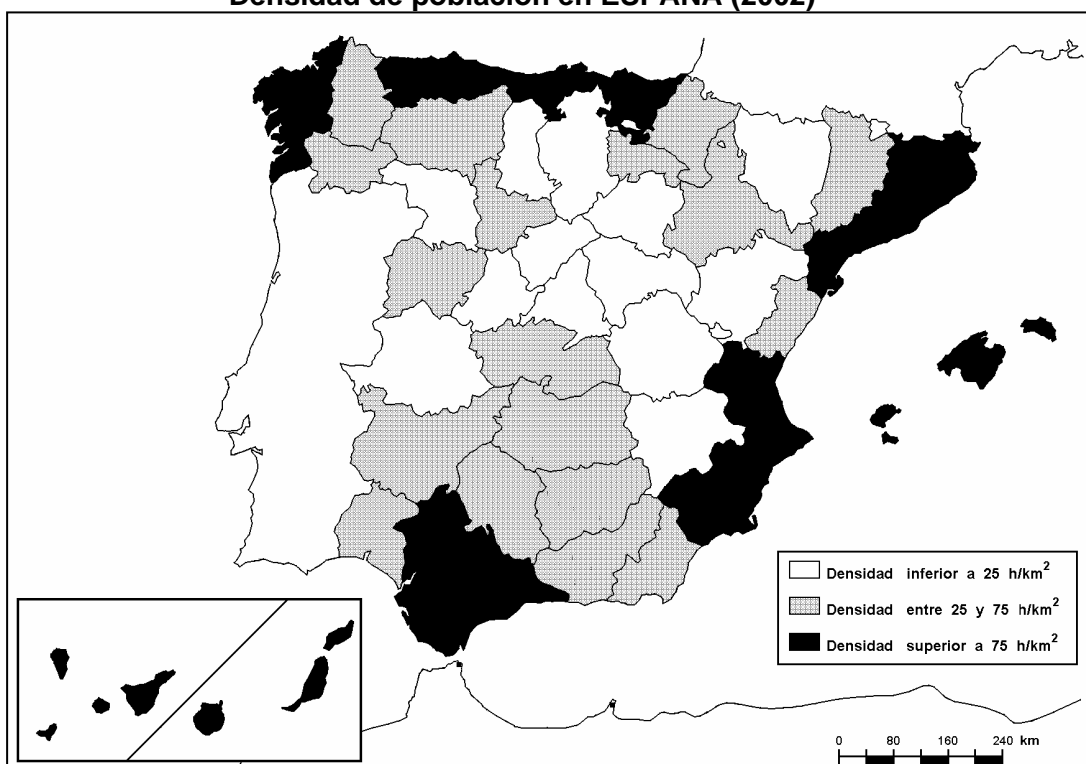
I.- Desarrolle el siguiente tema:

“DIVERSIDAD LITOLÓGICA DEL RELIEVE DE ESPAÑA (PRINCIPALES TIPOS DE ROCAS). LA FORMACIÓN DEL RELIEVE Y SU RELACIÓN CON EL TIEMPO GEOLÓGICO (ERAS Y OROGENIAS)”
(Hasta: 3 puntos)

II.- Práctica.

A partir de la lectura e interpretación del mapa adjunto, describa y comente las zonas de máxima y mínima densidad de la población en España, explicando los factores físicos y humanos que puedan influir en la misma.
(Hasta 3 puntos)

Densidad de población en ESPAÑA (2002)



III.- Conceptos.

(Hasta: 2 puntos)

Defina con la mayor precisión posible únicamente cuatro de estos términos.

- 1) *Área endorréica.* 2) *Estepa.* 3) *Casco histórico.*
4) *Migraciones interiores.* 5) *Acuicultura.* 6) *Energía renovable.*

IV.- Localizaciones.

(Hasta: 2 puntos)

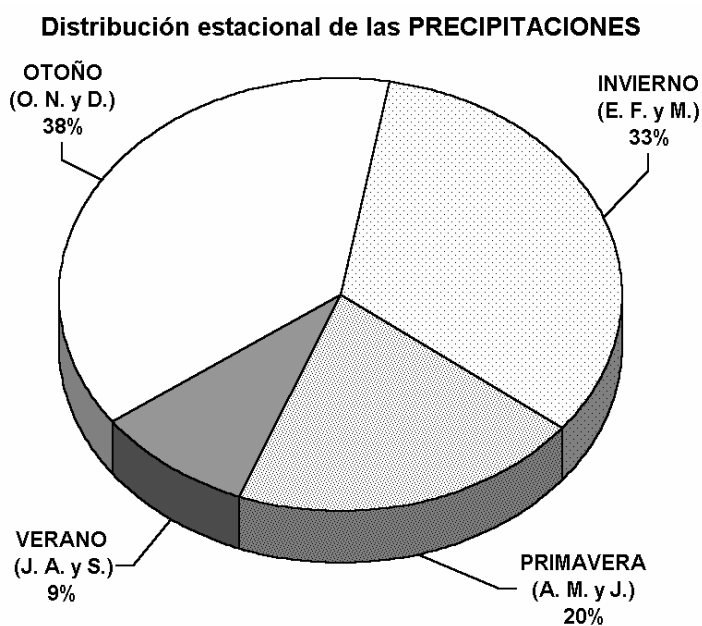
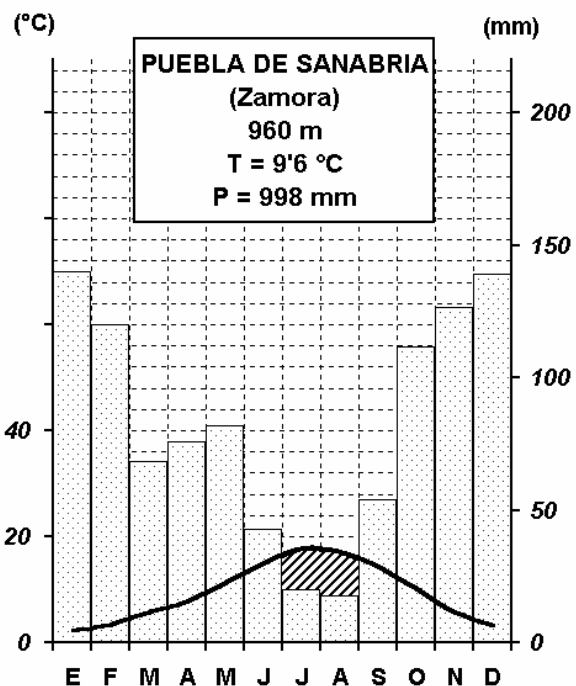
En el mapa adjunto, debe localizar de forma inequívoca y con la mayor precisión posible (mediante un punto, línea o contorno, y escribiendo el número que le corresponda) **únicamente cinco** de los siguientes elementos geográficos:

- 1) Golfo de Rosas 2) Mérida 3) Mallorca 4) Río Júcar
 5) Teide (pico) 6) Cabo de Finisterre 7) Delta del Ebro

OPCIÓN B

I.- Desarrolle el siguiente tema:
“LAS FUENTES DE ENERGÍA EN ESPAÑA”. (Hasta: 3 puntos)

II.- Práctica.
A partir de la observación de estos gráficos, realice el correspondiente comentario de los hechos geográficos que de ella se derivan. (Hasta: 3 puntos)



III.- Conceptos. (Hasta: 2 puntos)
 Defina con la mayor precisión posible **únicamente cuatro** de estos términos.

- 1) Tasa de fecundidad. 2) Energía no renovable. 3) Borrasca.
 4) Censo de población. 5) Meseta. 6) Materia prima.

IV.- Localizaciones. (Hasta: 2 puntos)
 En el mapa adjunto, debe localizar de forma inequívoca y con la mayor precisión posible (mediante un punto, línea o contorno, y escribiendo el número que le corresponda) **únicamente cinco** de los siguientes elementos geográficos:

- 1) Sierra de Gredos 2) Río Guadalquivir 3) Ibiza 4) Huesca (provincia)
 5) Cabo Ortegal 6) Tablas de Daimiel (P. Nacional) 7) Castellón de la Plana