	<p align="center">Pruebas de Acceso a enseñanzas universitarias oficiales de Grado Castilla y León</p>	<p align="center"><i>Geografía</i></p>	<p align="center">Modelo “0”</p>
---	---	--	---

Se presentan **DOS propuestas** de prueba con idéntica estructura (**Opción A** y **Opción B**).
El alumno deberá **escoger UNA** de ellas y **RESPONDER SÓLO A LA ELEGIDA**.

CRITERIOS GENERALES DE CORRECCIÓN DE LA PRUEBA

- I.- Tema:** Se valorará, sobre todo, la coherencia en la estructura y el que los contenidos no omitan aspectos fundamentales de la cuestión.
II.- Práctica: Lo correcto es leer e interpretar el material aportado y superar la mera descripción. Evite desarrollar un “tema paralelo”.
III.- Definiciones: Se valorará, ante todo, la exactitud, claridad y concisión de las respuestas.
IV.- Localizaciones: Se exige que sea clara y precisa. No debe haber duda acerca de dónde se quiere situar el enunciado propuesto.
CORRECCIÓN FORMAL: Para valorarla se reserva hasta UN PUNTO (0’5 por presentación y 0’5 por ortografía y sintaxis)

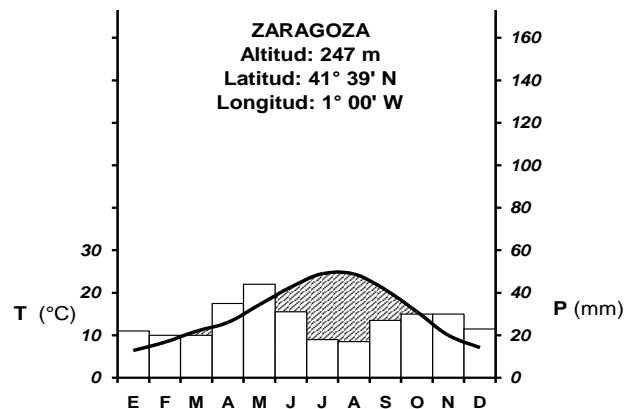
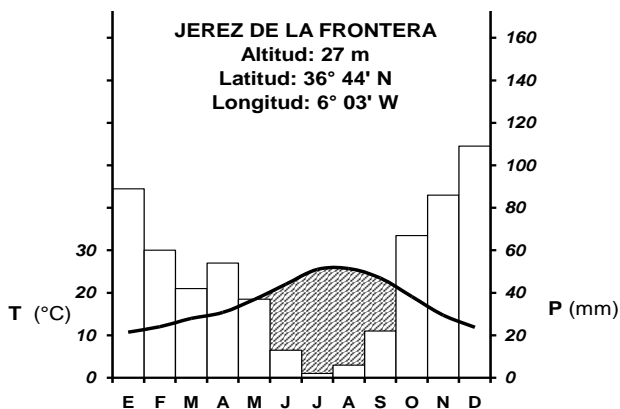
OPCIÓN A

I.- Desarrolle el siguiente tema:

«**CARACTERÍSTICAS Y PROBLEMAS DE LA ACTIVIDAD AGRARIA EN ESPAÑA. LA CONFORMACIÓN DE LAS ESTRUCTURAS AGRARIAS EN CASTILLA Y LEÓN**» (Hasta 3 puntos)

II.- Práctica:

A partir de la observación de estos gráficos y datos, realice el correspondiente comentario comparativo de las características climáticas. (Hasta 3 puntos)



JEREZ DE LA FRONTERA		ZARAGOZA	
18	Temp. media anual (°C)	15	
598	Precip. media anual (mm)	318	
54	Nº medio al año de días de lluvia	50	
4	Nº medio al año de días de helada	25	
137	Nº medio al año de días despejados	80	

Fuente: INM (<http://www.inm.es>)

III.- Defina con la mayor precisión posible ÚNICAMENTE CINCO de los siguientes términos: (Hasta 2 puntos)

- Agricultura extensiva
- Censo
- Acuífero
- Orogenia
- Anticiclón.
- Concentración parcelaria
- Tiempo (atmosférico)

IV.- En el mapa adjunto, **localice de forma inequívoca** y con la mayor precisión posible (mediante punto, línea o contorno, y con el número correspondiente) ÚNICAMENTE **DIEZ** de los siguientes **elementos geográficos**: (Hasta 1 punto)

- | | | | | |
|-------------------|--------------------------|--------------------|--|----------------------------|
| 1) Río Segura | 2) Cordillera Penibética | 3) Málaga (ciudad) | 4) Menorca | 5) Guadalajara (provincia) |
| 6) Los Monegros | 7) Pamplona | 8) Cabo Machichaco | 9) Caldera de Taburiente (P. Nacional) | |
| 10) Pico Mulhacén | 11) Campo de Nijar | 12) Golfo de Rosas | | |

OPCIÓN B

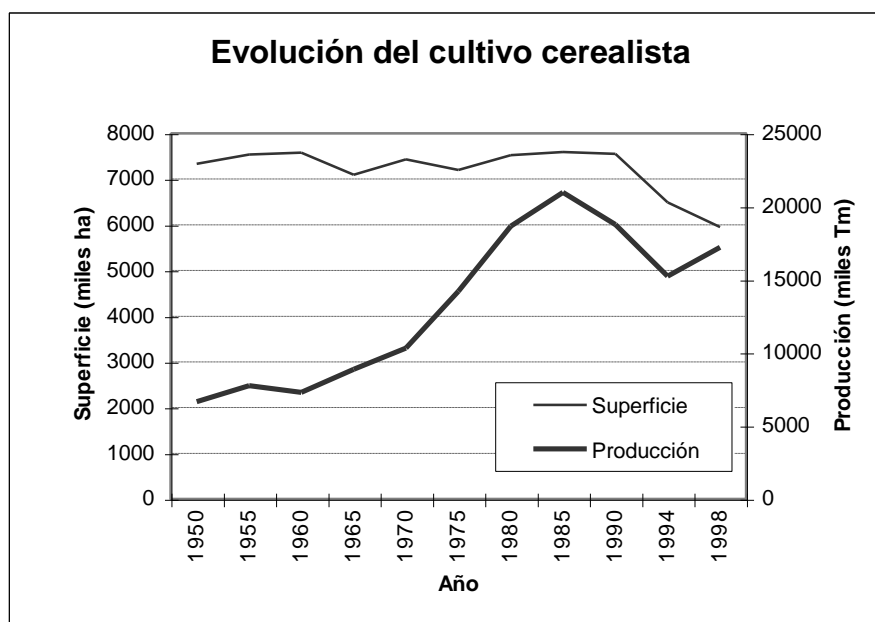
I.- Desarrolle el siguiente tema:

«LA HIDROGRAFÍA Y LA PROBLEMÁTICA DE LOS RECURSOS HÍDRICOS EN ESPAÑA. EL AGUA EN CASTILLA Y LEÓN»

(Hasta 3 puntos)

II.- Práctica:

A partir de la lectura e interpretación del gráfico adjunto, comenta los aspectos fundamentales referidos a la evolución del cultivo de cereales en España. (Hasta 3 puntos)



Fuente: Censo agrario de 1998

III.- Defina con la mayor precisión posible ÚNICAMENTE **CINCO** de los siguientes términos:

(Hasta 2 puntos)

- | | | | |
|--------------------|---------------------|-------------------|--------------|
| ● Barlovento | ● Población ocupada | ● C.B.D. | ● Topografía |
| ● Turismo cultural | ● Comisión Europea | ● Balance hídrico | |

IV.- En el mapa adjunto, **localice de forma inequívoca** y con la mayor precisión posible (mediante punto, línea o contorno, y con el número correspondiente) ÚNICAMENTE **DIEZ** de los siguientes **elementos geográficos**: (Hasta 1 punto)

- | | | | | |
|------------------|---|-----------------------|--------------------------|------------------------|
| 1) Mérida | 2) Delta del Ebro | 3) Cabo de Finisterre | 4) Castellón (provincia) | 5) Gran Canaria |
| 6) Río Nalón | 7) Sierra de Tramuntana | 8) Moncayo (pico) | 9) Bilbao | 10) Cabo de Finisterre |
| 11) Aneto (pico) | 12) Tablas de Daimiel (Parque Nacional) | | | |